

# MEKANISME HARGA DI PASAR



Kuliah VI – Pengantar Ekonomi Perikanan

# Quis

- Uraikan hukum permintaan dan penawaran!
- Sebutkan faktor yang mempengaruhi permintaan dan penawaran





# KESEIMBANGAN PASAR

- Kurva permintaan?
- Kurva penawaran?
- Keseimbangan harga barang
  - harga pada tingkat permintaan dan penawaran barang sama.
  - Harga pada tingkat *excess demand* = 0
- **Pada tingkat keseimbangan harga tidak ada tendensi harga berubah.**



# Pasar = tempat terjadi transaksi antara penjual dan pembeli

- Dua transaksi = harga dan volume
- *Exciess demand* terjadi ketika pada tingkat harga saat ini, jumlah yang diminta lebih besar dari jumlah yang ditawarkan.
- *Excess supply* terjadi ketika pada tingkat harga saat ini, jumlah yang tawarkan lebih besar dari jumlah yang diminta.





$$\text{Excess supply} = Q_s - Q_D$$

price

$p = \$3$

**EXCESS SUPPLY**

supply

demand

$Q_D$

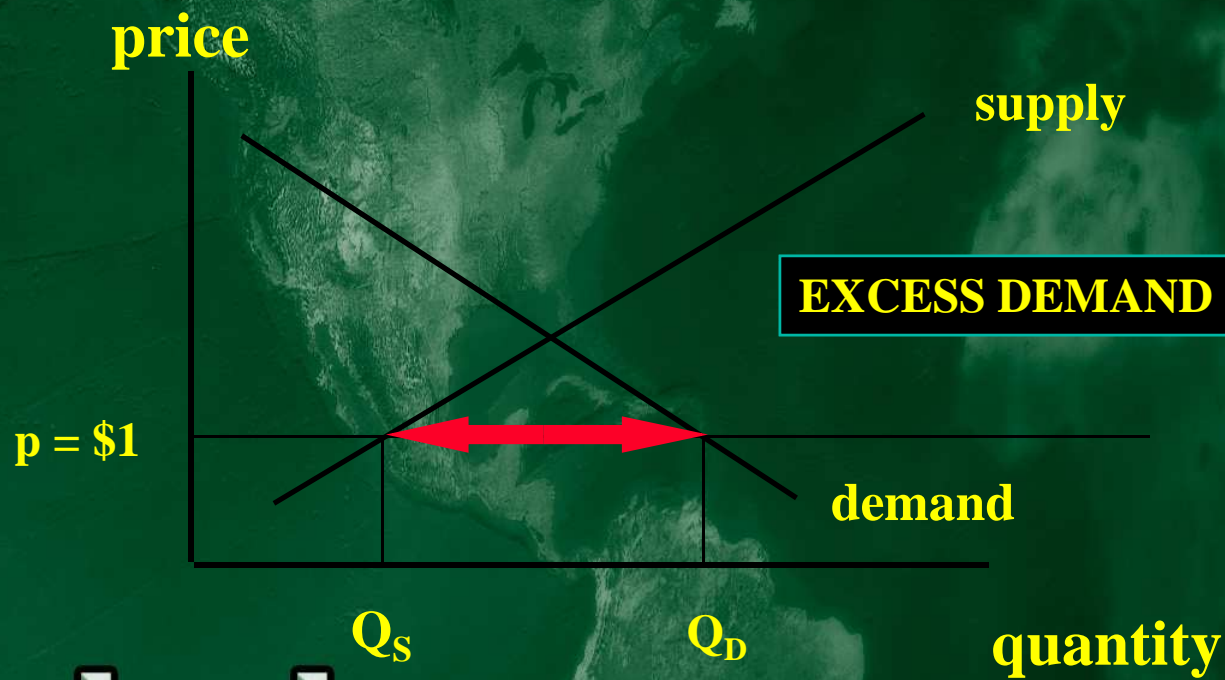
$Q_s$

Pasar udang

quantity



$$\text{Excess demand} = Q_D - Q_S$$



Q<sub>S</sub> Q<sub>D</sub>  
Pasar udang



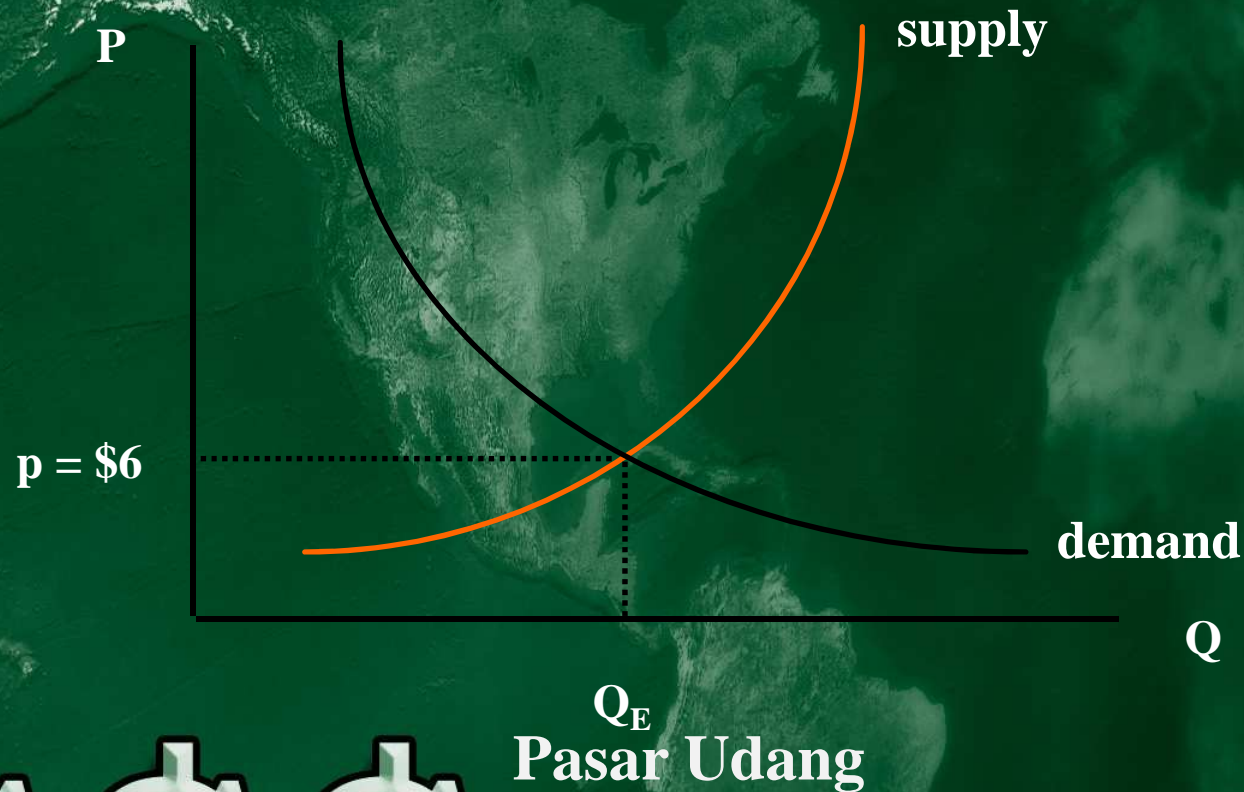


# Take home messages

- Ketika terjadi EXCESS DEMAND untuk barang ekonomi, harga cenderung meningkat.
- Ketika terjadi EXCESS SUPPLY untuk barang ekonomi, harga cenderung menurun.
- Bagaimana kalau excess demand terjadi?



# Keseimbangan harga udang di pasar?





# Kapan harga udang akan berubah?

- Perubahan permintaan disebabkan oleh faktor?:
  - Perubahan pendapatan
  - Perubahan harga barang substisi
  - Perubahan harga barang komplemen
  - Perubahan preferensi
- Perubahan penawaran disebabkan oleh faktor?:
  - Perubahan harga input
  - Perubahan teknologi
  - Perubahan pajak



- Changes in demand can be caused by
  - changes in consumer incomes
  - changes in the prices of substitutes
  - changes in the prices of complements
  - changes in tastes

Changes in supply can be caused by

- changes in prices of inputs
- changes in technology
- changes in taxes



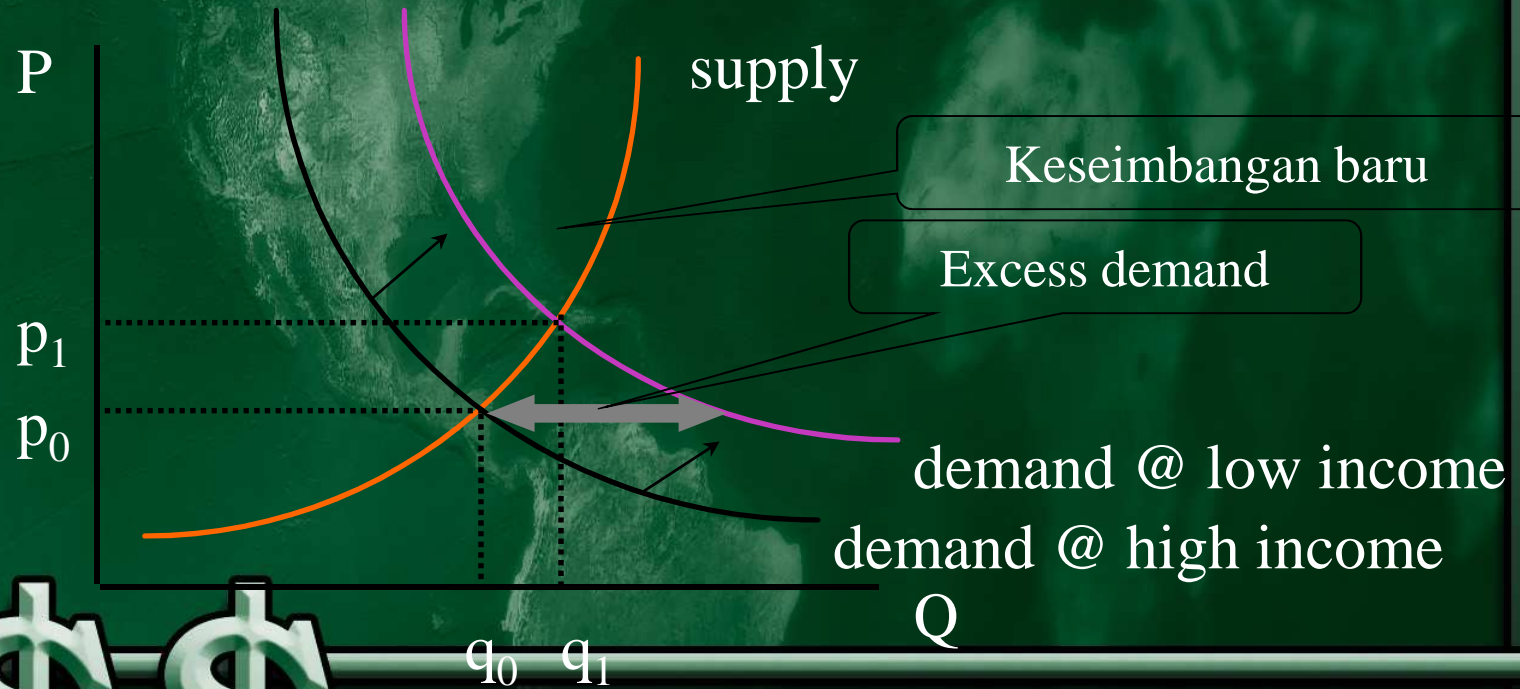


## Contoh kasus:

- Misalnya ikan lemuru merupakan barang inferior, jika terjadi penurunan tingkat pendapatan karena kenaikan harga BBM bagaimana permintaan lemuru?



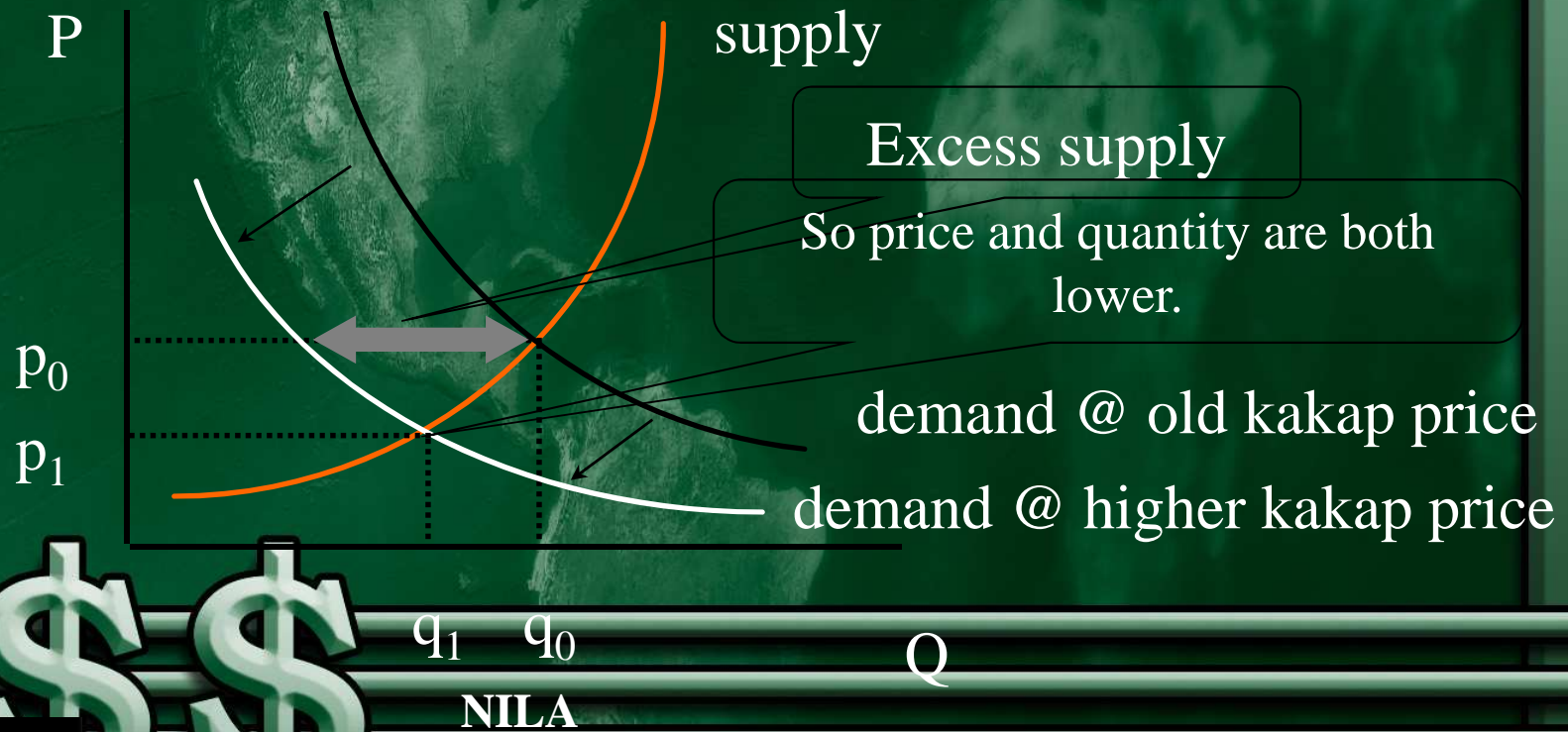
Ikan lemuru merupakan barang inferior. Penurunan tingkat pendapatan karena kenaikan harga BBM akan meningkatkan permintaan lemuru. Terjadi *excess demand*, sehingga harga cenderung meningkat.



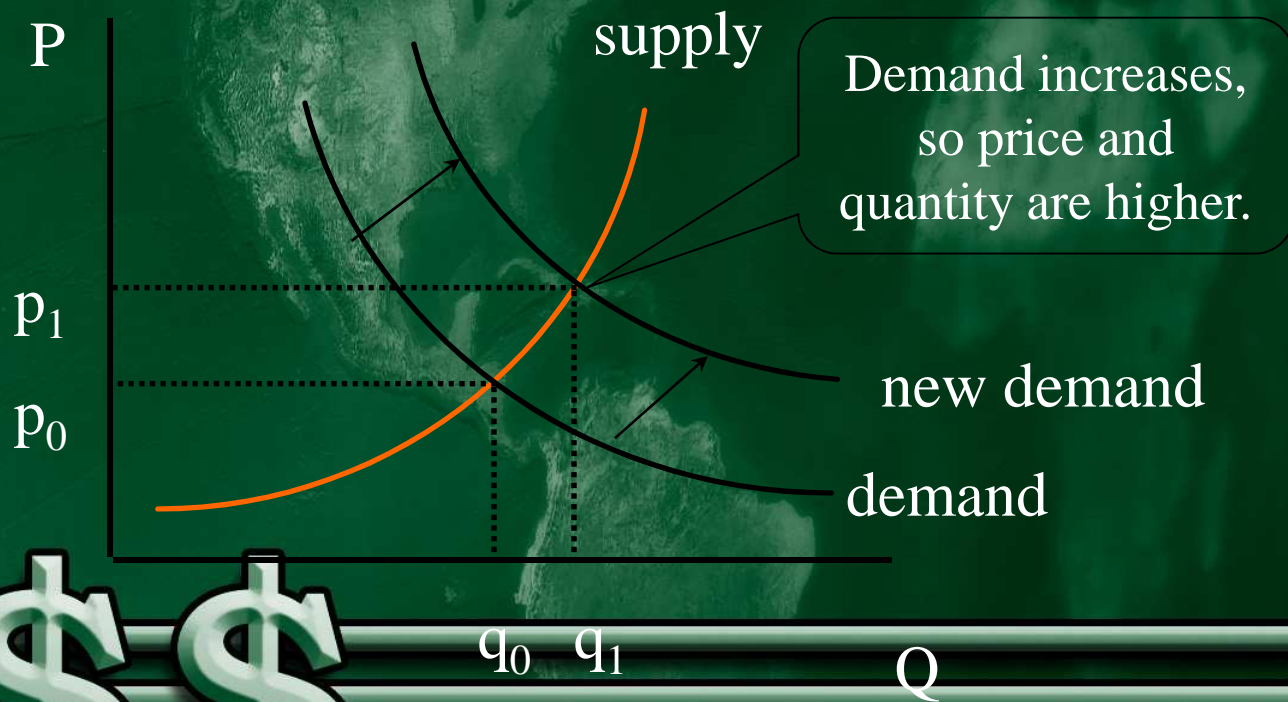
Lemuru



Misal nila dan kakap merah adalah barang komplementer. Harga kakap naik, maka permintaan nila akan turun



Masyarakat semakin percaya bahwa semakin banyak mengkonsumsi ikan akan meningkatkan kesehatan. Apa implikasi perubahan preferensi ikan terhadap pasar ikan?

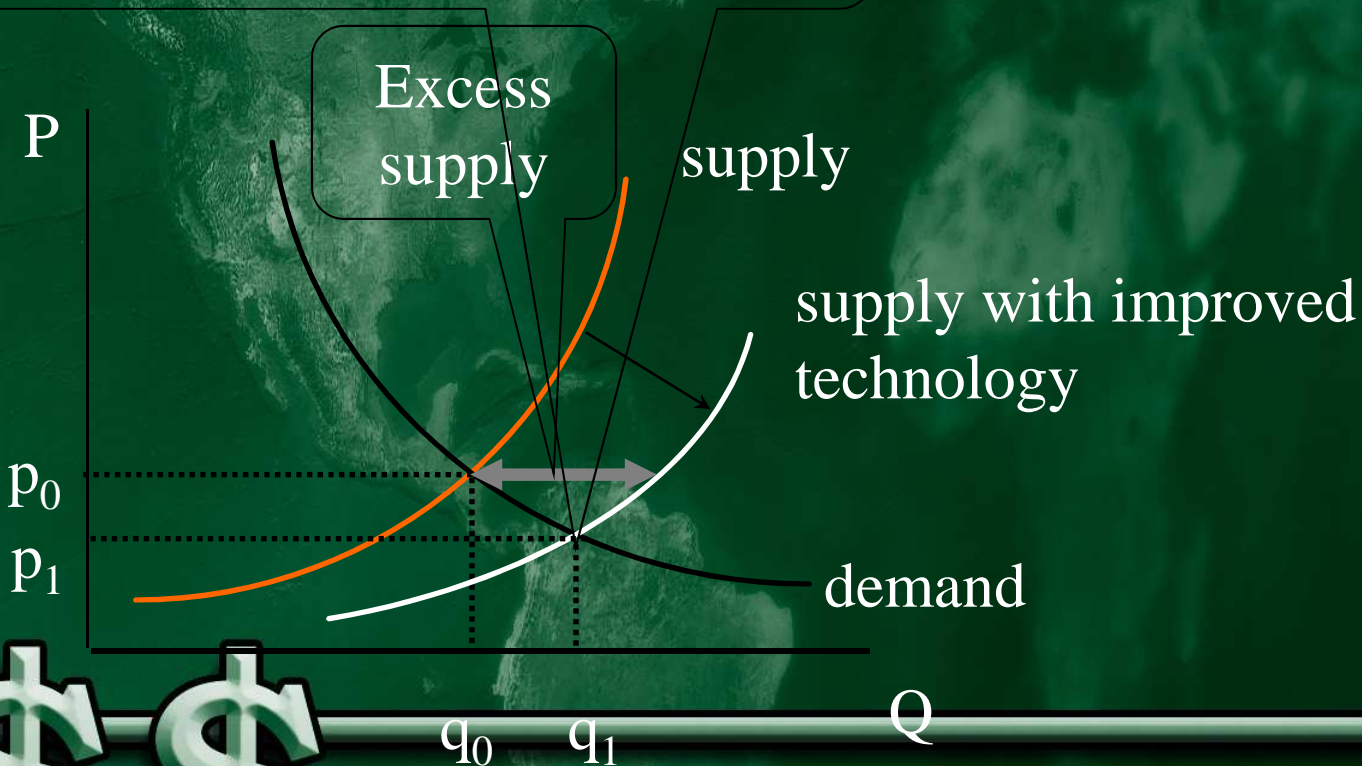


PASAR IKAN



Ahli perikanan di UGM mengembangkan jenis baru ikan gurami sehingga produksi gurami meningkat 15%.  
Bagaimana pengaruh teknologi terhadap pasar gurami?

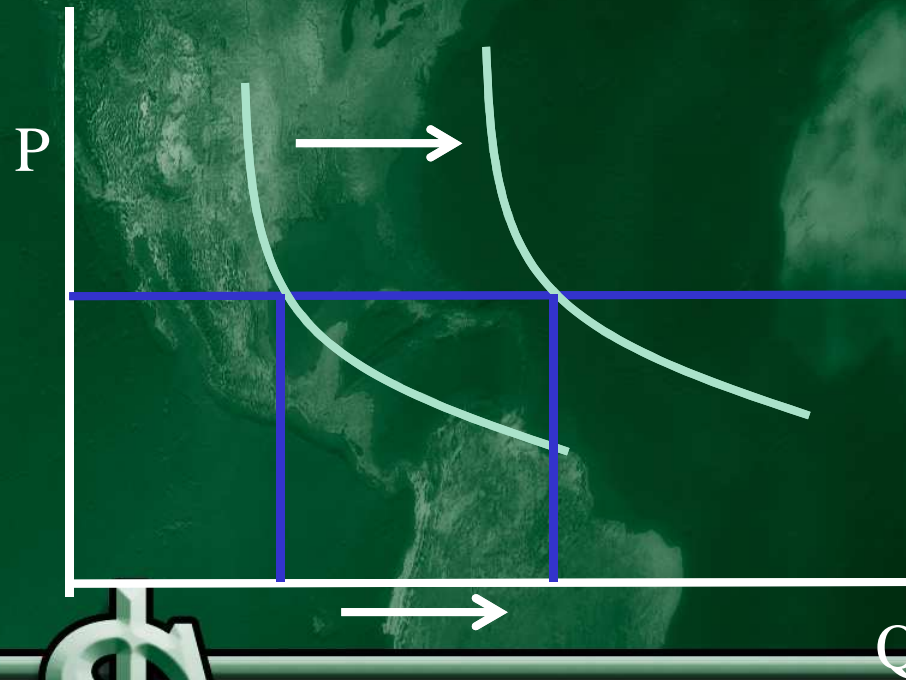
In the new equilibrium price is lower and quantity higher.



PASAR GURAMI

# Pengecualian


- Constant cost supply





# Pengecualian

- Kurva penawaran yang inelastis sempurna



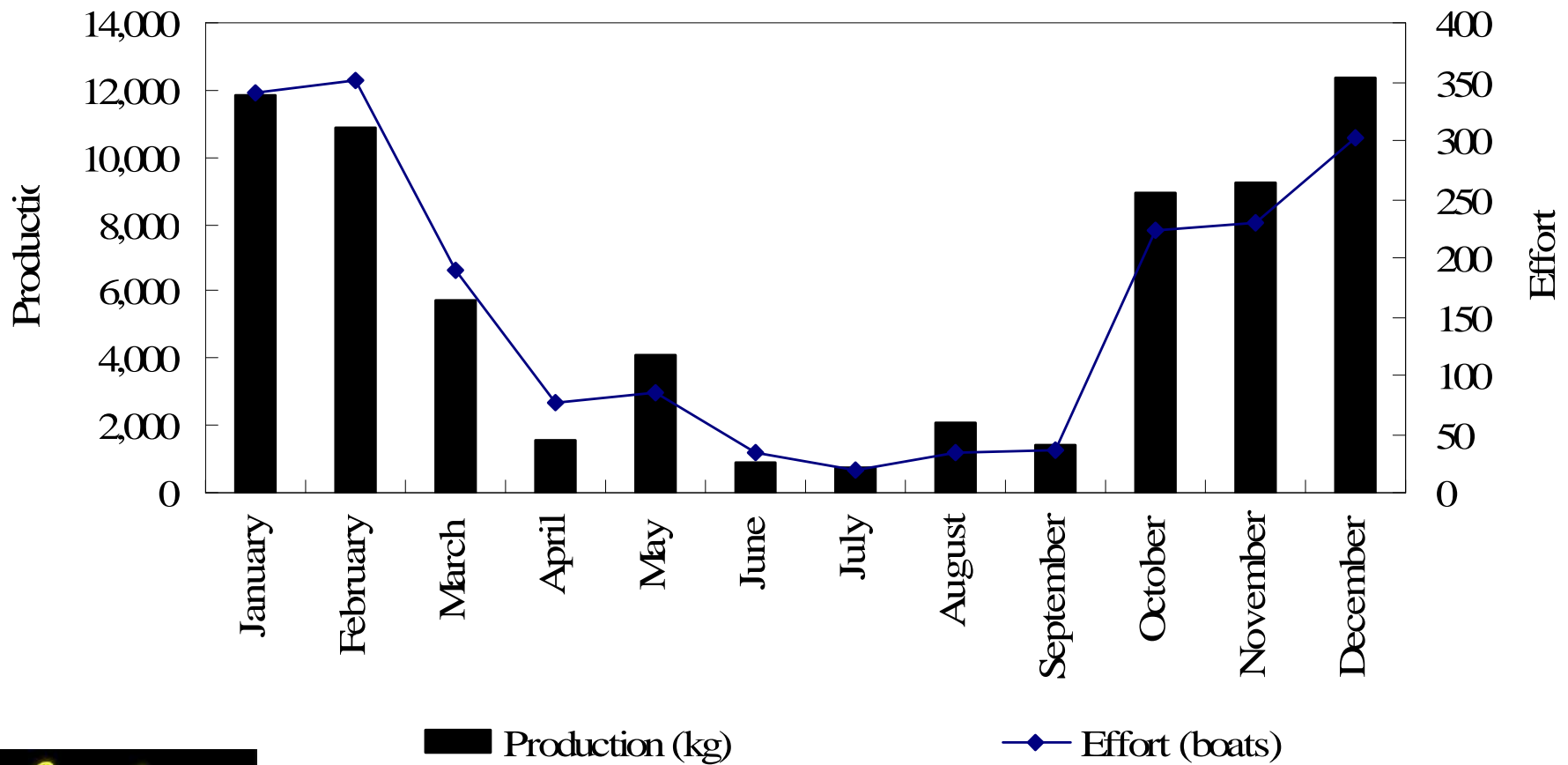
# Pengecualian

- Backward bending supply
- Decreasing cost supply





# Pasar Ikan vs Musim?



# RINGKASAN

- Harga pasar akan mengikuti mekanisme penyesuaian untuk mendorong pasar pada tingkat equilibrium.
- Harga berubah sebagai respon terhadap kondisi excess demand or excess supply.
- Perubahan pada permintaan dan pada penawaran akan mendorong perubahan harga dan jumlah barang.

